

PROVA COMENTADA
PROFESSOR DE GEOGRAFIA

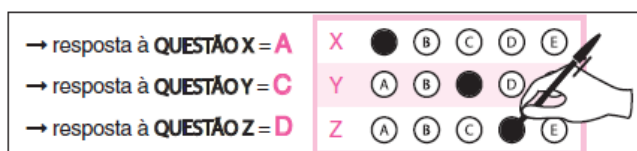
INFORMAÇÕES AO CANDIDATO

- Leia as informações adiante e mantenha o Caderno de Provas devidamente fechado, aguardando autorização do Fiscal para início da Prova. Abrir esse caderno antes dessa autorização implicará na sua eliminação do presente certame.
- Antes e durante a realização da Prova será feita a recepção do Envelope referente a Prova de Títulos, conforme capítulo IV.
- Você está recebendo o seu Caderno de Prova Escrita, contendo 30 (trinta) questões objetivas de múltipla escolha com 05 (cinco) alternativas cada.
- Se encontrar alguma informação em desacordo, incompleta ou com algum defeito gráfico que lhe cause impossibilidade de solucionar a questão, prossiga a execução da prova; tal reclamação poderá ser feita por você no período de recurso ao gabarito. O Fiscal não está autorizado a esclarecer quaisquer dúvidas durante a realização da prova.
- No Cartão resposta faça a conferência da grafia de seu nome. Caso tenha alguma incorreção, os quadrantes devem ser preenchidos com o NOME CORRETO, conforme documento de identidade. Preencher seu nome e logo abaixo, assinar conforme sua carteira de identidade.

BIOS CONCURSOS PÚBLICOS

Nome completo:	MARIA DA SILVA SOUZA
Só utilize esses quadrantes se precisar retificar seu nome, por alguma incorreção no ato de inscrição.	
Exame realizado por:	
	Essa prova só pode ser aplicada a partir da data Caso essa prova seja aplicada antes da data indicada, os dados desse CARTÃO-RESPOSTA serão desconsiderados.
Assinatura conforme documento de identidade. Assinatura do participante	

- Para registrar as alternativas escolhidas nas questões objetivas de múltipla escolha, você receberá um Cartão Resposta de Leitura Ótica. Preencher a resposta **com caneta transparente esferográfica preta**, pintando todo o campo que contém a letra da alternativa que julgar correta



- Se for necessária a utilização do sanitário, você deverá solicitar permissão ao fiscal de sala que designará um fiscal volante para acompanhá-lo no deslocamento, devendo permanecer em silêncio, durante todo o percurso, podendo, antes de entrar no sanitário e depois da utilização desse, ser submetido à revista (com ou sem detector de metais).
- Caso, nesse momento, seja detectada qualquer irregularidade ou porte de qualquer tipo de equipamento eletrônico, serão tomadas providências de acordo com o estabelecido no Edital.
- Ao terminar sua Prova e preenchido o Cartão-Resposta, entregue-o ao Fiscal e deixe a sala em silêncio.
- O Caderno de provas poderá ser levado pelo candidato quando restar 1h para o término da prova.

EXCELENTE PROVA!

CONHECIMENTOS PEDAGÓGICOS E LEG. EDUCACIONAL – QUESTÕES 1 A 10

01. A educação brasileira tem sido marcada pelas tendências liberais, nas suas formas ora conservadora, ora renovada. (LUCKESI, Cipriano Carlos. Filosofia Da Educação. São Paulo: ed. Cortez, 1994. p. 54)

Considerando a divisão de Luckesi em relação à pedagogia liberal, assinale a alternativa que identifica as tendências liberais que se manifestam na prática pedagógica da educação brasileira.

- A) Renovada, libertadora, tradicional, libertária.
- B) Tradicional, renovada progressivista, renovada não-diretiva, tecnicista.**
- C) Tradicional, renovada não-diretiva, libertadora, crítico social dos conteúdos.
- D) Tecnicista, libertadora, tradicional, renovada não-diretiva.
- E) Tradicional, renovada progressivista, libertária, tecnicista.

GABARITO: B

Segundo Luckesi o termo liberal não tem o sentido de "avançado", "democrático", "aberto", como costuma ser usado. A doutrina liberal apareceu como justificção do sistema capitalista que, ao defender a predominância da liberdade e dos interesses individuais da sociedade, estabeleceu uma forma de organização social baseada na propriedade privada dos meios de produção, também denominada sociedade de classes. A pedagogia liberal, portanto, é uma manifestação própria desse tipo de sociedade. Desse modo, corresponde as tendências com características centralizadoras com foco no conteúdo, na eficiência tais como: tradicional, renovada progressivista, renovada não-diretiva, tecnicista.

02. Segundo Luckesi em alguns casos as tendências se complementam, em outros, divergem. De qualquer modo, a classificação e sua descrição poderão funcionar como um instrumento de análise para o professor avaliar a sua prática de sala de aula. (LUCKESI, Cipriano Carlos. Filosofia Da Educação. São Paulo: ed. Cortez, 1994. p. 54)

A partir da afirmação do autor assinale (V) para as afirmativas **VERDADEIRAS** e (F) para as alternativas **FALSAS**.

- () Na tendência tradicional Os conteúdos, os procedimentos didáticos, a relação professor-aluno não têm nenhuma relação com o cotidiano do aluno e muito menos com as realidades sociais.
- () A pedagogia progressista apresentada na tendência renovada não-diretiva, está orientada para os objetivos de auto-realização (desenvolvimento pessoal) e para as relações interpessoais, na formulação do psicólogo norte-americano Carl Rogers.
- () A educação libertadora questiona concretamente a realidade das relações do homem com a natureza e com os outros homens, visando a uma transformação – daí ser uma educação crítica. Essa pedagogia tem como mentor e inspirador Paulo Freire.
- () A difusão de conteúdos é a tarefa primordial. Não conteúdos abstratos, mas vivos, concretos e, portanto, indissociáveis das realidades sociais, essa caracterização refere-se a pedagogia renovada progressivista.

- A) V V V V
- B) V F F F
- C) V F V F**
- D) F V V F
- E) V V V F

GABARITO: C

A segunda alternativa é falsa, pois a tendência renovada não-diretiva não compreende os fundamentos da pedagogia progressista estando situada na pedagogia liberal, uma vez que essa doutrina liberal apareceu como justificção do sistema capitalista que, ao defender a predominância da liberdade e dos interesses individuais da sociedade, estabeleceu uma forma de organização social baseada na propriedade privada dos meios de produção, também denominada sociedade de classes. A pedagogia liberal, portanto, é uma manifestação própria desse tipo de sociedade.

A última alternativa não se refere à tendência renovada progressivista, mas crítico social dos conteúdos. Vale ressaltar que a tendência renovada progressivista está vinculada a pedagogia liberal, portanto não defende a difusão dos conhecimentos interligados as realidades sociais.

As alternativas 1 e 3 estão verdadeiras.

03. O planejamento, entendido como ato político, será dinâmico e constante, pois estará afeito a uma constante tomada de decisão e essa ação envolve a elaboração de planos de ensino.

Sobre esse assunto **É CORRETO** afirmar que:

- A) Os planos de ensino devem contemplar somente objetivos e avaliação da aprendizagem.
- B) As estratégias são materiais e equipamentos tecnológicos necessários para o ensino.
- C) A avaliação é a etapa de um plano de ensino que o define como ato político.
- D) O planejamento como ato político deve considerar que os conteúdos precisam ser selecionados com base nas necessidades de aprendizagem e interesses dos alunos.**
- E) A prática do planejamento didático diz respeito exclusivamente ao preenchimento de formulários, seja para a administração acadêmica dos estabelecimentos de ensino, seja para as diretorias e órgãos administrativos da educação.

GABARITO: D

As demais alternativas são falsas, pois:

A alternativa A diz que os planos de ensino contemplam somente objetivos e avaliação esquecendo os conteúdos, recursos, e estratégias de ensino ou metodologia.

A alternativa B incorreta, pois as estratégias não são equipamentos e materiais diz respeito ao modo como a aula será ministrada.

A alternativa C diz que é a avaliação que define um planejamento como político, sendo que segundo Luckesi o ato político no planejamento consiste em compreender que não se trata de uma ação neutra, mas uma ação intencional carregada de objetivos.

A alternativa E trata o planejamento como uma ação puramente burocrática.

04. A LDB 9.394/96 estabelece alguns artigos destinados à compreensão de aspectos pedagógicos relacionado ao funcionamento da escola entre eles pode destacar o artigo 26 sobre currículo. Analise as afirmativas e dê valor (V) VERDADEIRO e (F) FALSO para as orientações legais acerca do currículo escolar.

- () Os currículos da educação infantil, do ensino fundamental e do ensino médio devem ter base nacional comum, a ser complementada, em cada sistema de ensino e em cada estabelecimento escolar, por uma parte diversificada, exigida pelas características regionais e locais da sociedade, da cultura, da economia e dos educandos.
- () Os currículos a que se refere o caput devem abranger, obrigatoriamente, o estudo da língua portuguesa e da matemática, o conhecimento do mundo físico e natural.
- () O ensino da História do Brasil levará em conta as contribuições das diferentes culturas e etnias para a formação do povo brasileiro, especialmente das matrizes indígena, africana e europeia.
- () O ensino da arte, especialmente em suas expressões regionais, constituirá componente curricular facultativo da educação básica.
- () A educação física, integrada à proposta pedagógica da escola, é componente curricular obrigatório da educação básica, sendo sua prática facultativa ao aluno.

Assinale a alternativa que apresenta a sequência **CORRETA** de cima para baixo.

- A) V V F V V
- B) V V V V V
- C) V F V F V**
- D) F V V F V
- E) F F V F V

GABARITO: C

Os currículos a que se refere o caput devem abranger, obrigatoriamente, o estudo da língua portuguesa e da matemática, o conhecimento do mundo físico e natural e da realidade social e política, especialmente do Brasil. A segunda alternativa está incompleta.

A quarta alternativa: O ensino da arte, especialmente em suas expressões regionais, constituirá componente curricular obrigatório da educação básica. (Redação dada pela Lei nº 13.415, de 2017)

05. De acordo com Constituição Federal 1988 no seu artigo 214 o plano nacional de educação, de duração decenal, tem o objetivo de articular o sistema nacional de educação em regime de colaboração definindo diretrizes, objetivos, metas e estratégias de implementação para assegurar a manutenção e desenvolvimento do ensino em seus diversos níveis, etapas e modalidade, por meio de ações integradas das diferentes esferas federativas que conduzam a:

I - Erradicação do analfabetismo.

II- Universalização do atendimento escolar.

III- Melhoria da qualidade de ensino.

IV- Formação para vida.

V-Promoção da diversidade, conhecimento científico e tecnológico.

VI- Estabelecimento de meta da aplicação dos recursos públicos para 75% como proporção do produto interno bruto.

Marque a alternativa **CORRETA**.

A) **As alternativas I II e III estão corretas.**

B) As alternativas corretas são I, III e IV.

C) As alternativas I II e V estão corretas.

D) As alternativas I II e VI estão corretas.

E) Todas as alternativas estão corretas.

GABARITO: A

As alternativas IV, V e VI são falsas, pois:

IV (Formação para o trabalho),

V (Promoção humanística científica e tecnológica do país)

VI (Estabelecimento de meta de aplicação de recursos públicos em educação como proporção do produto interno bruto- texto da Emenda Constitucional nº 59/2009.)

06. Brincar, jogar agir ludicamente exige uma entrega total do ser humano, corpo e mente ao mesmo tempo. (Luckesi, 2000, p.21). Assim, podemos afirmar de acordo com Luckesi que:

A) A ludicidade é a metodologia usada para explorar os conteúdos da sala de aula.

B) A ludicidade desenvolve o potencial cognitivo e motor dos sujeitos.

C) A ludicidade oportuniza apenas diversão e ação.

D) Ludicidade é um estado interno do sujeito que vivencia uma experiência de forma plena.

E) A ludicidade está relacionada somente a jogos e músicas.

GABARITO: D

A alternativa A identifica a ludicidade a uma metodologia sendo que a mesma trata de uma experiência integral do sujeito que pode acontecer durante o estudo de conteúdos na sala de aula, mas que não se trata de um método um meio e sim uma experiência.

A alternativa B restringe a ludicidade a dois campos o cognitivo e o motor sendo que a ludicidade também desenvolve o raciocínio, o social a afetividade.

A alternativa C diz que a ludicidade apenas oportuniza diversão limitando uma experiência interna plena que é a ludicidade.

A alternativa E também relaciona a ludicidade somente com jogos e músicas sabendo que como disse Luckesi o indivíduo na ludicidade experimenta uma experiência de integração entre sentir, pensar e fazer.

07. O conceito de zona do desenvolvimento proximal de Vygotsky é muito importante para compreender as relações entre desenvolvimento e aprendizagem, pois segundo esse autor trata-se de um desnível intelectual avançado. Sobre essa perspectiva assinale a alternativa **CORRETA**.

A) A zona de desenvolvimento proximal sugere a necessidade de o ensino ajustar-se a estruturas mentais já estabelecidas.

B) A zona de desenvolvimento é o avanço progressivo de etapas de desenvolvimento.

C) Zona de desenvolvimento proximal é um desnível avançado dentro do qual a criança, com o auxílio direto ou indireto de um adulto pode desempenhar tarefas que sozinha não faria.

D) Zona de desenvolvimento é atingir níveis de desenvolvimento acima do esperado para a faixa etária do sujeito.

E) Zona de desenvolvimento dirige a um novo estágio de desenvolvimento com a intervenção de outro sujeito.

GABARITO: C

A alternativa A relaciona a zona de desenvolvimento proximal as estruturas mentais já estabelecidas, sendo que foi Piaget que relacionou o ensino as estruturas mentais já estabelecidas.

As alternativas B, D e E tratam de estágios e etapas sendo que nenhum momento Vygotsky descreveu características associando a níveis de desenvolvimento o teórico que analisou e descreveu estágios do desenvolvimento foi Piaget.

08. Paulo Freire um dos educadores mais influentes do planeta desenvolveu um trabalho nos círculos de cultura voltado para alfabetizar adultos. Analise as alternativas em relação à vasta construção teórica de Freire.

I - Seu primeiro projeto educacional se volta à alfabetização de 300 cortadores de cana em apenas 45 dias no Rio Grande do Norte.

II - O método freireano deve ser entendido como filosofia ou teoria do conhecimento.

III - Nos círculos de cultura existia um programa de conteúdos definidos previamente para desenvolver a leitura e a escrita dos adultos.

IV - Freire defendia a existência da sabedoria popular, para ele os alunos trazem vivências, conhecimentos e hábitos.

V - A forma de trabalhar de Paulo Freire baseava-se numa hierarquia vertical entre educador e educando.

Marque a alternativa **CORRETA**:

A) As alternativas I, III e IV estão corretas.

B) As alternativas II, III e IV estão corretas.

C) As alternativas I, III e V estão corretas.

D) As alternativas I, II e V estão corretas.

E) As alternativas I, II e IV estão corretas.

GABARITO: E

A alternativa III está incorreta, pois Paulo Freire não definia conteúdos previamente pelo contrário o seu fazer baseava-se na escolha de temas geradores com os sujeitos nos quais eram problematizados nas aulas e usados para o ensino da alfabetização.

A alternativa IV está errada, pois a hierarquia defendida por Freire era horizontal e não vertical de cima para baixo, pois para Freire a hierarquia horizontal pressupõe uma participação igualitária do professor e do aluno no processo de aprendizagem.

09. Segundo Luckesi (2012) O ato avaliativo é um ato de investigar a qualidade da realidade, presente em todo ato humano e subsidia escolhas. Trata-se de um modo de investigar a qualidade da realidade e implica em dois passos.

Marque a alternativa **CORRETA** que indica os dois passos defendidos por Luckesi:

A) Diagnosticar a realidade e mensurar aspectos definidos.

B) Descrever a realidade objeto da investigação e qualificar com base em critérios previamente estabelecidos.

C) Descrever a realidade do objeto e qualificar os indicadores.

D) Diagnosticar a realidade e qualificar com base em critérios previamente definidos.

E) Descrever o que foi aprendido e quantificar a aprendizagem com base em padrões estabelecidos.

GABARITO: B

É comum, quando se fala em avaliação, apelar para a subjetividade, quase a desqualificando, esquecendo de que ela exige um rigor metodológico que lhe garante validade no que expressa. Por isso, o autor sugere que se descreva a realidade do objeto e qualifique baseando-se em critérios previamente estabelecidos. Podemos dizer que se trata de avaliar tendo como fundamento o currículo ensinado.

10. A organização Mundial de Saúde (OMS) reconhece o TDAH como Transtorno de Déficit de Atenção e Hiperatividade, sobre esse tema é **CORRETO** afirmar que:

- A) Trata de um transtorno social no qual o sujeito apresenta dificuldade de socialização e seguir as regras.
- B) O TDAH é um transtorno neurobiológico comum na infância caracterizado pela presença de sintomas de desatenção, impulsividade/ hiperatividade ou do tipo cominado no qual interfere no desenvolvimento escolar.
- C) O TDAH é um transtorno comum na infância caracterizado pela presença de sintomas de desatenção, impulsividade ou hiperatividade e precisam estar presentes antes dos 7 anos de idade.
- D) De acordo com o DSM.IV, o manual de classificação das doenças mentais, o TDAH se classifica em dois tipos: desatenção, hiperatividade/impulsividade.
- E) O TDAH é um transtorno mental e não tem nenhuma relação com a hereditariedade.

GABARITO: B

A alternativa A diz transtorno social, mas estudos apontam a predisposição genética e a ocorrência de alterações nos neurotransmissores (dopamina e noradrenalina) que estabelecem as conexões entre os neurônios na região frontal do cérebro como as principais causas do transtorno do déficit de atenção.

A alternativa C aponta que os sintomas devem estar presentes antes dos 7 anos sendo que se indica antes dos 12 anos de idade.

A alternativa D está errada pois se classifica em três tipos:

- TDAH com predomínio de sintomas de desatenção;
- TDAH com predomínio de sintomas de hiperatividade/impulsividade;
- TDAH combinado.(presença de desatenção e hiperatividade).

GEOGRAFIA – QUESTÕES 11 A 30

11. A permanência da estrutura fundiária colonial do Brasil continua sendo responsável pela violência no campo. Conforme a Comissão da Pastoral da Terra, em 2022, foram registrados 2.018 casos de conflitos no campo, envolvendo 909,4 mil pessoas e mais de 80,1 milhões hectares de terra em disputa em todo o território nacional, o que corresponde à média de um conflito a cada quatro horas. Essas ocorrências abrangem não apenas as disputas específicas pela terra, mas também a disputa por água, trabalhadores resgatados em condições análogas à escravidão, contaminação por agrotóxico, assassinatos, mortes e outros casos de violência. <https://agenciabrasil.ebc.com.br/direitos-humanos/noticia/2023-04/brasil-registrou-um-conflito-no-campo-cada-quatro-horas-em-2022>

O aumento exponencial de conflitos e, por conseguinte, de mortes no campo, atualmente, tem relação direta com:

- A) O advento de novas tecnologias que modernizou as atividades agrícolas e aumentou a capacidade de produção de alimentos.
- B) A expansão das novas fronteiras agrícolas que abrangem as regiões centro-oeste e norte, cujo modelo produtivo se baseia na diversificação da produção;
- C) A drástica estagnação da Reforma Agrária, haja vista que essa prevê a redistribuição de terras latifundiárias e improdutivas.
- D) Com o desenvolvimento da pluriatividade no espaço rural, em razão da urbanização do campo que promovem, além de atividades agrícolas, também, atividades não-agrícolas.
- E) Em razão das novas ruralidades inauguradas pelo MATOPIBA nas regiões Nordeste e Norte, já que concentram os maiores casos registrados de violência no campo no país.

GABARITO: C

A) Está incorreta porque, apesar da concentração de terras que a modernização agrícola gerou, ela não é responsável pela produção de alimentos, já que o que gera são commodities.

B) Está incorreta porque a expansão das fronteiras agrícolas em questão, tem por modelo produtivo monoculturas especializadas.

C) Está correta porque os conflitos existentes no campo, deve-se a desigualdades socioeconômicas que há em sua estrutura, marcada por latifúndios improdutivos e que servem a especulação fundiária.

D) Está incorreta porque a pluriatividade é resultado da urbanização do campo que inaugura as novas ruralidades.

E) Está incorreta porque, apesar do MATOPIBA ser uma área especializada em agronegócio, não são nesses estados que se dá os maiores índices de violência no campo, na atualidade.

12. A Cartografia apresenta-se como o conjunto de estudos e operações científicas, técnicas e artísticas que, tendo por base os resultados de observações diretas ou da análise de documentação, se voltam para a elaboração de mapas, cartas e outras formas de expressão ou representação de objetos, elementos, fenômenos e ambientes físicos e socioeconômicos, bem como a sua utilização.

Sobre sua representação é **INCORRETO** afirmar:

- A) O globo terrestre é a representação cartográfica perfeita sobre uma superfície esférica, em escala pequena, de aspectos naturais e artificiais de uma figura planetária, com finalidade cultural e ilustrativa.
- B) Mapa é a representação no plano, normalmente em escala pequena, dos aspectos geográficos, naturais, culturais e artificiais de uma área tomada na superfície de uma figura planetária, delimitada por elementos físicos, político-administrativos, destinada aos mais variados usos temáticos, culturais e ilustrativos.
- C) As projeções cartográficas são a rede de paralelos e meridianos sobre a qual desenhamos um mapa, portanto, quanto ao método e aspectos, elas geram distorções em suas projeções cilíndricas, cônicas e azimutais, considerando determinadas propriedades geográficas.
- D) Carta é a representação no plano, em escala média ou grande, dos aspectos artificiais e naturais de uma área tomada de uma superfície planetária, subdividida em folhas delimitadas por linhas convencionais – paralelos e meridianos - com a finalidade de possibilitar a avaliação de pormenores, com grau de precisão compatível com a escala.
- E) Os mapas afiláticos, também conhecidos como arbitrários e de anamorfoses são tipos de projeções cartográficas que não respeitam nenhuma das propriedades, anteriormente citadas, pois representam graficamente, a síntese de uma pesquisa ou estudo sobre determinado tema;

GABARITO: E

- A) Está correta porque a definição de globo terrestre disposta na proposição corresponde aquela definida pela ciência.
- B) Está correta porque a definição de mapas disposta na proposição corresponde aquela definida pela ciência.
- C) Está correta porque a definição de projeções cartográficas disposta na proposição corresponde aquela definida pela ciência.
- D) Está correta porque a definição de cartas disposta na proposição corresponde aquela definida pela ciência.
- E) Está incorreta porque os mapas de anamorfose, afiláticos e arbitrários são projeções gráficas, ou seja, não possuem rede de paralelos e nem meridianos em sua elaboração, portanto, não respeitam nenhuma das propriedades, métodos e aspectos que possuem as projeções cartográficas, portanto, o que se busca numa projeção de anamorfose não é a representação da superfície terrestre, mas, a síntese de uma pesquisa ou estudo.

13. A área de transporte é estratégica para economia do país, pois dela depende o escoamento da produção tanto para consumo e usos internos quanto para as exportações. Em razão das dimensões continentais do Brasil e da ausência de investimentos em infraestrutura de transportes, o governo busca aprovar mudanças para reativar investimentos que visam superar os gargalos e deficiências que prejudicam a economia.

Tendo em vista o contexto atual e sua geografia, a proposta de planejamento para ampliação da matriz de transportes no Brasil se basearia no conceito:

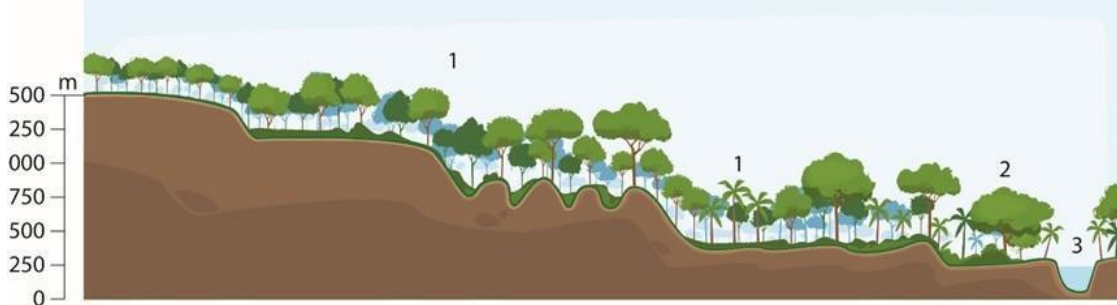
- A) Os transportes por dutos ou tubulações;
- B) Transporte Monomodal;
- C) Transporte Bimodal;
- D) Transportes de Contêineres;
- E) Intermodalidade.

GABARITO: E

- A) Está incorreta porque, dadas as características geográficas do Brasil e sua extensão territorial, os transportes por dutos e gasodutos não seria suficiente para atender a logística que nossa produção econômica requer na atualidade para atender suas demandas.
- B) Está incorreta porque, dadas as características geográficas do Brasil e sua extensão territorial, os transportes monomodal não é suficiente para atender a logística que nossa produção econômica requer na atualidade para atender suas demandas.
- C) Está incorreta porque, dadas as características geográficas do Brasil e sua extensão territorial, os transportes bimodais não são suficientes para atender a logística que nossa produção econômica requer na atualidade para atender suas demandas.

- D) Está incorreta porque, dadas as características geográficas do Brasil e sua extensão territorial, os transportes por contêineres, apesar de sua flexibilidade, não seria suficiente para atender a logística que nossa produção econômica requer na atualidade para atender suas demandas.
- E) Está correta, haja vista que, em razão dos avanços técnicos e científicos que diversificaram os meios de transportes e comunicação, aumentando sua capacidade de velocidade e fluidez e, portanto, a intermodalidade.

14. Examine, cuidadosamente, o perfil esquemático do Domínio Morfoclimático expresso na figura.



De acordo com classificação do geógrafo Aziz Ab'Sáber "Os domínios morfoclimáticos são grandes regiões delimitadas com base na presença de elementos em comum que formam paisagens homogêneas. Esses elementos são o clima, a vegetação, o solo, o relevo e a hidrografia." Portanto, partindo desse pressuposto, a paisagem brasileira pode ser dividida em seis domínios morfoclimáticos.

<https://brasilecola.uol.com.br/brasil/dominios-morfoclimaticos.htm>

Sobre o Domínio Morfoclimático Brasileiro, é **CORRETO** afirmar que, na área representada:

- A) Há um domínio de condições climáticas quentes e úmidas e de uma vegetação heterogênea.
- B) Que se refere a uma área de transição ou complexa, em razão da diversidade biológica expressa pela presença de vários biomas.
- C) Existe um predomínio de clima semiúmido, com chuvas de inverno e espécies tropófitas, típicas de áreas ecótonas.
- D) A atuação de uma massa polar, denunciada pela presença de cocais, sugere a predominância de clima subtropical no ambiente.
- E) A estação seca deve durar, no mínimo, 10 meses durante o ano, interferindo nas características químicas dos solos.

GABARITO: A

- A) Está correta, haja vista que a vegetação em questão é reflexo do clima pela qual ela está sujeita, isto é, sua heterogeneidade decorre do ambiente pelo qual se desenvolve, rico em radiação solar, calor e umidade que lhes garante essas características.
- B) Está incorreta porque a vegetação em questão não é uma vegetação de transição, típicas de áreas de encontro de ecossistemas.
- C) Está incorreta porque a vegetação em questão é típica de área úmida, com chuvas o ano inteiro, cujas espécies são arbóreas, higrófilas, latifoliadas, perenifólias e heterogêneas, típicas de domínios morfoclimáticos.
- D) Está incorreto porque as massas de ar que aí atuam são intertropicais, portanto, quentes, não formadas pela presença de vegetações secundárias como a de cocais, cujo clima é equatorial.
- E) Está incorreta porque as características aqui anunciadas, definem o semiárido brasileiro e não o domínio morfoclimático em questão.

15.



Conforme relatório do Alto Comissariado das Nações Unidas para Refugiados (ACNUR) estão na Ásia os mais intensos fluxos de saída de refugiados da crise atual. Ao se lançarem em perigosas travessias pelo Mar Mediterrâneo e árduas caminhadas em terras desconhecidas, esses migrantes sonham com uma chance de serem acolhido em uma Europa que se mostra cada vez mais hostil à presença de estrangeiros, cuja situação se reproduz:

- A) Pela ausência de estrutura para qualificação da mão de obra dos imigrantes;
- B) Pela xenofobia em relação a esses grupos étnicos;**
- C) Pela terceirização do mercado de trabalho que precariza essa mão de obra;
- D) Pelo combate à difusão crescente do Islamismo;
- E) Pela erradicação do terrorismo, já que essa prática é típica de suas práticas religiosas.

GABARITO: B

A) Está incorreta porque o motivo que levam os países europeus, em especial a União Europeia a não conceder a esses refugiados, é a aversão a cultura dos mesmos e o sentimento de superioridade que se reproduz em XENOFOBIA.

B) Está correta porque a verdadeira causa que levam esses países agirem assim é a Xenofobia, que reflete sentimento de superioridade e aversão a esses refugiados, por preconceitos étnicos e religiosos.

C) Está incorreta porque o motivo que levam os países europeus, em especial a União Europeia a não conceder a esses refugiados, é a aversão a cultura dos mesmos e o sentimento de superioridade que se reproduz em XENOFOBIA.

D) Está incorreta porque o motivo que levam os países europeus, em especial a União Europeia a não conceder a esses refugiados, é a aversão a cultura dos mesmos e o sentimento de superioridade que se reproduz em XENOFOBIA.

E) Está incorreta porque o motivo que levam os países europeus, em especial a União Europeia a não conceder a esses refugiados, é a aversão a cultura dos mesmos e o sentimento de superioridade que se reproduz em XENOFOBIA.

16.

O Censo Demográfico 2022 apontam que o Brasil tem 203,1 milhões de habitantes, um aumento de 6,5% em relação ao último levantamento, feito em 2010, o que significa mais 12,3 milhões de pessoas. Esses dados mostram que neste período a taxa média de crescimento anual da população brasileira ficou em 0,52%, a menor desde o primeiro censo do Brasil, em 1872.

<https://agenciabrasil.ebc.com.br/radioagencia-nacional/economia/audio/2023-06/censo-mostra-que-popula%C3%A7%C3%A3o-brasileira-cresceu>

Conforme informações do IBGE, o atual perfil da população brasileira, refletem dados que indicam:

- A) O aumento das taxas de mortalidade infantil que superam as de fecundidade, que resultam das condições precárias de infraestrutura e ambiental pela qual vive a maioria da população brasileira nas áreas urbanas;
- B) Do processo de feminização do mercado de trabalho que decorre do aumento do nível de escolaridade dessa demanda e da melhoria médico-sanitária;
- C) Da intervenção estatal na difusão de métodos contraceptivos e campanhas educativas que promovem a política de controle de natalidade, acompanhado pelo envelhecimento da população;
- D) Da queda no número de nascimentos, acompanhada pelo envelhecimento da população brasileira, cuja dinâmica, gera impactos na força de trabalho, na saúde e na previdência.**
- E) Uma redução no seu crescimento, em detrimento do aumento da violência no Brasil e nas mortes geradas pela COVID, fato que resultou na diminuição da expectativa de vida da população nesses últimos anos atípicos.

GABARITO: D

- A) Está incorreta porque os dados indicam um crescimento vegetativo negativo, seguido pelo aumento da expectativa de vida, que resulta na redução de jovens e no aumento de idosos, cuja dinâmica demanda investimentos nas áreas de saúde e previdência, a tempo que impacta o mercado de trabalho com a redução de sua população economicamente ativa.
- B) Está incorreta porque os dados indicam um crescimento vegetativo negativo, seguido pelo aumento da expectativa de vida, que resulta na redução de jovens e no aumento de idosos, cuja dinâmica demanda investimentos nas áreas de saúde e previdência, a tempo que impacta o mercado de trabalho com a redução de sua população economicamente ativa.
- C) Está incorreta porque os dados indicam um crescimento vegetativo negativo, seguido pelo aumento da expectativa de vida, que resulta na redução de jovens e no aumento de idosos, cuja dinâmica demanda investimentos nas áreas de saúde e previdência, a tempo que impacta o mercado de trabalho com a redução de sua população economicamente ativa.
- D) Está correta já que os números indicam um freio no crescimento da população brasileira, que caminha para redução dos números de jovens, acompanhado pelo aumento no número de idosos, os quais geram impactos no mercado, na saúde e na previdência.
- E) Está incorreta porque os dados indicam um crescimento vegetativo negativo, seguido pelo aumento da expectativa de vida, que resulta na redução de jovens e no aumento de idosos, cuja dinâmica demanda investimentos nas áreas de saúde e previdência, a tempo que impacta o mercado de trabalho com a redução de sua população economicamente ativa.

17. A preservação da Amazônia tem sido tema de preocupação internacional, pois a perda da sua vegetação pode modificar a temperatura, o regime dos rios e a biodiversidade local e global, já que a sua manutenção está relacionada à conservação do seu ecossistema que, historicamente, encontra-se comprometido pelo desmatamento.

Sobre o referido problema, na atualidade, é **CORRETO** afirmar que o mesmo resulta:

- A) Da aprovação do novo Código Florestal que aumenta o percentual de áreas para atividades econômicas sustentáveis;
- B) Da irrestrita liberação de recursos destinados à sua fiscalização que, apesar de permitir a atuação satisfatória de seus agentes, acabam não atingindo as metas para sua superação.
- C) Do desenvolvimento e expansão das atuais fronteiras agrícolas e de sua cadeia produtiva que, acompanhadas pela concentração de terras, culminam no seu ecocídio.
- D) Da exploração legal da madeira e de sua biomassa, além dos garimpos ferríferos;
- E) Da produtividade da pecuária bovina intensiva e leiteira.

GABARITO: C

- A) Está incorreta porque a causa atual de seu desmatamento, deve-se a introdução das novas fronteiras agrícolas que culminam na destruição sistemática e intensa desse ecossistema, de seu sistema ecológico, causando o extermínio da comunidade (animal ou vegetal) que nele está presente.
- B) Está incorreta porque a causa atual de seu desmatamento, deve-se a introdução das novas fronteiras agrícolas que culminam na destruição sistemática e intensa desse ecossistema, de seu sistema ecológico, causando o extermínio da comunidade (animal ou vegetal) que nele está presente.
- C) Está correta porque a causa atual de seu desmatamento, deve-se a introdução das novas fronteiras agrícolas e de sua cadeia produtiva, que culminam na destruição sistemática e intensa do seu ecossistema, causando o extermínio da comunidade (animal ou vegetal) que nele está presente.
- D) Está incorreta porque a causa atual de seu desmatamento, deve-se a introdução das novas fronteiras agrícolas que culminam na destruição sistemática e intensa desse ecossistema, de seu sistema ecológico, causando o extermínio da comunidade (animal ou vegetal) que nele está presente.
- E) Está incorreta porque a causa atual de seu desmatamento, deve-se a introdução das novas fronteiras agrícolas que culminam na destruição sistemática e intensa desse ecossistema, de seu sistema ecológico, causando o extermínio da comunidade (animal ou vegetal) que nele está presente.

18. O maior aquífero do planeta é o amazônico, que até 2013 era chamado de Aquífero Alter do Chão. Os pesquisadores da Universidade Federal do Pará – UFPA – o rebatizaram por ser um sistema maior e mais complexo do que se conjecturava, pois os recentes estudos o classificam como a maior reserva de água do planeta. Essa reserva do Sistema Aquífero Grande Amazônia (**SAGA**), considerando o uso atual, seria suficiente para abastecer as necessidades humanas por 250 anos.

Considerando as características hídricas mencionadas sobre esse sistema mais complexo do mundo, é **INCORRETO** afirmar:

- A) Que os núcleos identificados possuem 75% de sua extensão totalmente em território nacional;
- B) A principal forma direta de aproveitamento apontada é a sua utilização para dessedentação animal ligado ao grande rebanho bovino de corte.
- C) Está numa estrutura totalmente sedimentar, o que torna muito mais fácil sua perfuração e exploração;
- D) A água está quase intacta, pois, apesar de algumas cidades utilizarem como fonte de abastecimento, essa reserva hídrica encontra-se numa área pouco povoada do Brasil;
- E) É renovável, pois poder ser reabastecido pelo regime pluvial que tem na Floresta Amazônica sua maior expressão de grandeza e dependência.

GABARITO: B

- A) Está correto porque o percentual de área citado corresponde aos dados da pesquisa.
- B) Está incorreto porque, por se tratar de um reservatório criptorréico, o acesso direto de sua água é impossível, portanto, é inacessível à pecuária bovina, sendo indicado para o abastecimento público e a irrigação.
- C) Está correto, haja vista que, a formação dos aquíferos só se dá em estruturas sedimentares.
- D) Está correta, pois, apesar do uso desse reservatório por algumas cidades dessa região, a sua descoberta é recente e a população que ela atende não lhe gera pegada hídrica.
- E) Está correta porque o seu regime é pluvial, isto é, decorre da evapotranspiração potencial que aí ocorre, em razão da ZCIT e da liberação de vapor d'água pela floresta que mantém essa dinâmica cíclica.

19. Na atualidade, o espaço rural brasileiro já não pode mais ser analisado apenas como o conjunto das atividades agropecuárias e agroindustriais, pois ganhou novas funções. O aparecimento (e a expansão) dessas "novas" atividades rurais - agrícolas e não-agrícolas, altamente intensivas e de pequena escala - tem propiciado outras oportunidades para muitos produtores que não podem mais serem chamados de agricultores ou pecuaristas e que, muitas vezes, não são nem mesmo produtores familiares, uma vez que a maioria dos membros da família está ocupada em outras atividades não-agrícolas e/ou urbanas. Tais transformações derivam da crescente urbanização do meio rural que culmina em "Novas Ruralidades".

<https://www.eco.unicamp.br/colecao-pesquisa/o-novo-rural-brasileiro>

Sobre esse assunto é **INCORRETO** afirmar:

- A) Esse processo compreende a agropecuária moderna, baseada em commodities e intimamente ligada às agroindústrias, que vem sendo chamada de o agribusiness brasileiro.
- B) Se definem como importantes atividades "de fundo de quintal", hobbies pessoais ou pequenos negócios agropecuários intensivos, que foram se transformando em recentes alternativas de emprego e renda paralelo ao agronegócio.
- C) Trata-se de um conjunto de atividades não-agrícolas, ligadas à moradia, ao lazer e a várias atividades industriais e de prestação de serviços.
- D) Refere-se a um conjunto de "novas" atividades agropecuárias, localizadas em nichos específicos de mercados.
- E) Abrangem cadeias produtivas que, além da agroindústria, envolvem, serviços pessoais e produtivos relativamente complexos e sofisticados nos ramos de distribuição, comunicações e embalagens, em busca de nichos de mercado muito específicos.

GABARITO: B

- A) Está correta porque, com o advento da tecnologia e ciência no campo, o modo de vida urbano fora introduzido no mesmo, transformando suas atividades, as quais contam agora com uma cadeia produtiva que reúne os diversos setores da economia, portanto atividades agrícolas e não-agrícolas, que culminam na pluriatividade do espaço rural.
- B) Está incorreta porque as atividades citadas são seculares, mas, só se tornaram importantes, após o advento de modernização agrícola, sendo, portanto, atividades associadas a esse processo e não paralelo ao mesmo.
- C) Está correta porque, com o advento da tecnologia e ciência no campo, o modo de vida urbano fora introduzido no mesmo, transformando suas atividades, as quais contam agora com uma cadeia produtiva que reúne os diversos setores da economia, portanto atividades agrícolas e não-agrícolas, que culminam na pluriatividade do espaço rural.
- D) Está correta porque, com o advento da tecnologia e ciência no campo, o modo de vida urbano fora introduzido no mesmo, transformando suas atividades, as quais contam agora com uma cadeia produtiva que reúne os diversos setores da economia, portanto atividades agrícolas e não-agrícolas, que culminam na pluriatividade do espaço rural.

E) Está correta porque, com o advento da tecnologia e ciência no campo, o modo de vida urbano fora introduzido no mesmo, transformando suas atividades, as quais contam agora com uma cadeia produtiva que reúne os diversos setores da economia, portanto atividades agrícolas e não-agrícolas, que culminam na pluriatividade do espaço rural.

20. Atualmente, encontra-se em curso no Brasil o processo de **DESMETROPOLIZAÇÃO**, que é a diminuição do crescimento das metrópoles em benefício das cidades menores, sobretudo as cidades médias. Isso não significa que as grandes cidades estejam diminuindo o seu tamanho populacional, mas apenas recebendo menos migrantes e crescendo demograficamente em uma velocidade muito menor.

<https://mundoeducacao.uol.com.br/geografia/metropolizacao-desmetropolizacao-no-brasil.htm>

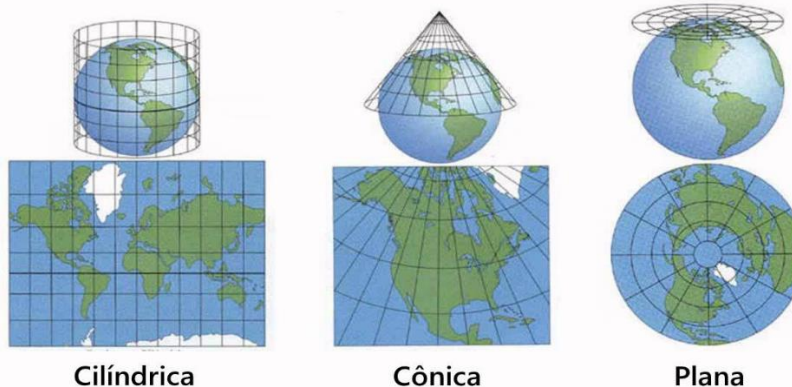
O termo em destaque indica que esse fenômeno está acompanhado pela(o):

- A) À insignificativa dinâmica econômica das pequenas cidades e vilas que, ainda hoje, são impossibilitadas de crescerem em razão da insuficiente rede urbana que as isola dos demais centros urbanos.
- B) O rendimento econômico positivo das populações interioranas, em razão da terciarização do mercado de trabalho que culmina na terceirização do trabalho que desencadeia uma maior oferta de empregos nesses lugares.
- C) Desconcentração industrial, em que as grandes empresas e fábricas, antes concentradas nos grandes centros urbanos, passam a se deslocar para cidades menores em busca, principalmente, de menores impostos e incentivos fiscais.
- D) O avanço nos sistemas de transportes e comunicações entre as cidades e sua recente diversificação e modernização, já que, ao integrá-las, as torna um aglomerado urbano complexo, marcado pela fusão de duas ou mais cidades.
- E) O abandono de uma população da área metropolitana de determinada região, indo em sentido ao campo, a zona rural, por questões econômicas, de disponibilidades de recursos, qualidade de vida, entre tantos outros fatores que levam a esse deslocamento.

GABARITO:C

- A) Está incorreta porque a desmetropolização é um processo atual que se encontra em curso no Brasil e que resulta na diminuição do crescimento das metrópoles em benefício das cidades menores, sobretudo as cidades médias, em razão dos fatores locacionais que essas oferecem para os empreendimentos capitalistas.
- B) Está correta porque a desmetropolização é um processo atual que se encontra em curso no Brasil e que resulta na diminuição do crescimento das metrópoles em benefício das cidades menores, sobretudo as cidades médias, em razão dos fatores locacionais que essas oferecem para os empreendimentos capitalistas.
- C) Está incorreta porque a desmetropolização é um processo atual que se encontra em curso no Brasil e que resulta na diminuição do crescimento das metrópoles em benefício das cidades menores, sobretudo as cidades médias, em razão dos fatores locacionais que essas oferecem para os empreendimentos capitalistas.
- D) Está incorreta porque a desmetropolização é um processo atual que se encontra em curso no Brasil e que resulta na diminuição do crescimento das metrópoles em benefício das cidades menores, sobretudo as cidades médias, em razão dos fatores locacionais que essas oferecem para os empreendimentos capitalistas.
- E) Está incorreta porque a desmetropolização é um processo atual que se encontra em curso no Brasil e que resulta na diminuição do crescimento das metrópoles em benefício das cidades menores, sobretudo as cidades médias, em razão dos fatores locacionais que essas oferecem para os empreendimentos capitalistas.

21. Uma professora de Geografia do Ensino Fundamental das séries finais, ao explicar sobre “Noções de Cartografia”, pediu para que os estudantes analisassem as Projeções Cartográficas abaixo e, na ocasião, pediu para que eles as observassem e, com base na sua definição, perguntou quais os aspectos que as diferenciariam.



- De acordo com o conceito de Projeções Cartográficas e, ao observar a figura acima, os estudantes responderam:
- A) É a sua rede de paralelos e meridianos, já que essas, por serem linhas imaginárias, são formadas por linhas horizontais e verticais que não se distorcem nos mapas.
 - B) Demonstram um plano de referência geodésica representado pela base dos levantamentos horizontais e verticais de determinação altimétrica e planimétrica.
 - C) A distorção que as suas linearidades geram no cilindro, no cone e no plano azimutal, respectivamente, considerando determinadas propriedades cartográficas.
 - D) O fato de que todas as projeções cartográficas são planas e reduzidas, total ou parcial da superfície terrestre, portanto, perfeitas representações.
 - E) Apresentam uma construção complexa de modelagem geométrica da Terra, transformando a parte plana em um mapa bidimensional.

GABARITO: C

- A) Está incorreta porque as coordenadas geográficas se distorcem nos mapas, conforme o método utilizado, isto é, se diferenciam de acordo com as projeções cilíndricas, cônicas e azimutais.
- B) Está incorreta porque as projeções cartográficas são representações planas e reduzidas, total ou parcial da superfície terrestre, portanto, não projetam com perfeição o formato geodésico da terra e nem suas altimetrias.
- C) Está correta, já que a rede de paralelos e meridianos sobre a qual se desenha um mapa, distorce suas linearidades conforme a base geométrica utilizada, sendo cilíndrica, cônica e azimutal.
- D) Está incorreta já que a questão solicita os aspectos que diferenciam as projeções. O fato de todas serem representações planas e reduzidas, total e parcial da superfície terrestre, classifica-as como mapas, portanto, uma representação imperfeita da superfície terrestre.
- E) Está incorreta porque não aborda sobre os aspectos que diferenciam as projeções e essa não são definidas como construção complexa de modelagem geométrica da Terra, transformando a parte plana em um mapa bidimensional.

22. Esta questão apresenta-se com uma proposição e uma razão para a proposição, separadas pela palavra **PORQUE**. Leia-a.

“Mais do que altas temperaturas e baixos índices pluviométricos, o clima semiárido brasileiro resulta das irregularidades de chuvas **PORQUE** a sua topografia interfere em dois aspectos: impede a livre circulação dos ventos úmidos do litoral para o interior numa área de transição e uma distribuição heterogênea de suas isoietas no sertão num curto período do ano.”

Assinale:

- A) Se a proposição é uma afirmativa verdadeira, e a razão é uma afirmativa falsa.
- B) Se a proposição e a razão são afirmativas verdadeiras, e a razão é uma causa da proposição.
- C) Se a proposição e a razão são afirmativas verdadeiras, e a razão não é a causa da proposição.
- D) Se a proposição é uma afirmativa falsa, e a razão é uma afirmativa verdadeira.
- E) Se a proposição e a razão são afirmativas falsas.

GABARITO: B

A proposição e razão encontram-se corretas, haja vista que, a umidade que chega no sertão semiárido brasileiro durante o curto período de verão, não são oriundas do litoral, haja vista que o Planalto da Borborema, ao criar uma barreira geológica, impede a livre circulação dos ventos úmidos do litoral para o interior, gerando nessa elevação, uma porção barlavento (úmida) a leste e outra sotavento (seca) a oeste, portanto, as chuvas que aqui precipitam, advêm da umidade gerada pela floresta amazônica através da evapotranspiração, cujo mecanismo é alimentado pela circulação atmosférica dos ventos alísios que criam na Região Norte do país uma Zona de Convergência Intertropical (ZCIT) que é responsável pela manutenção da umidade dessa área e por suas chuvas o ano inteiro e, no restante do Brasil, apenas no verão, as quais, durante esse período, se expandem através dos rios voadores ou flutuantes, atingindo o semiárido num curto período dessa estação, cujo índice pluviométrico apresenta uma distribuição irregular que varia dos 300mm a 800mm, em razão da altimetria e irregularidades de seu relevo, isto é, de sua topografia.

23. A urbanização no Brasil, desde sua gênese, se caracteriza como um processo desordenado em razão das condições históricas pelas quais ocorrera e, ainda, encontra-se em curso, resultando, dessa forma, na periferização de seu espaço que, no passado, teve por causa o êxodo rural e, na atualidade, a **GENTRIFICAÇÃO**. O termo em destaque representa a atual dinâmica de transformação das cidades no Brasil que tende a apresentar a expansão das áreas periféricas pelo(a):

- A) Pelo aumento da especulação imobiliária que culmina na elitização da paisagem.
- B) Pelo direcionamento maior do fluxo de pessoas, devido à existência de um grande número de serviços.
- C) Delimitação de áreas para uma ocupação planejada do espaço físico, que visa a melhoria da qualidade de vida.
- D) Processo acompanhado pela implantação de políticas públicas que promovem a moradia e o direito à cidade aos seus moradores.
- E) Parceria do poder público com os grupos privados que recuperam os espaços segregados, através da melhoria de sua infraestrutura, privilegiando as condições de vida dos grupos sociais que já residem nessas áreas.

GABARITO: A

A) está correta, uma vez que, na atualidade, a urbanização brasileira vive um processo de substituição das classes de baixa renda por abastadas, em virtude da especulação imobiliária que, ao melhorar a infraestrutura dos lugares, expulsam a população pobre e, dessa forma, intensificam a segregação espacial, típicas de sociedades capitalistas.

B) Está incorreta porque a gentrificação é um processo socioespacial caracterizado pela valorização acentuada de uma área urbana. Esse fenômeno contribui diretamente para o aumento da desigualdade.

C) Está incorreta porque a gentrificação é um processo socioespacial caracterizado pela valorização acentuada de uma área urbana. Esse fenômeno contribui diretamente para o aumento da desigualdade.

D) Está incorreta porque a gentrificação é um processo socioespacial caracterizado pela valorização acentuada de uma área urbana. Esse fenômeno contribui diretamente para o aumento da desigualdade.

E) Está incorreta porque a gentrificação é um processo socioespacial caracterizado pela valorização acentuada de uma área urbana. Esse fenômeno contribui diretamente para o aumento da desigualdade.

24. Numa aula sobre “Meio Ambiente”, um professor de geografia nas turmas de Educação de Jovens e Adultos, abordou sobre o conceito de **Pegada Ecológica**, na ocasião, utilizou como ferramentas algumas manchetes de jornais e slogans que tratassem sobre esse tema, para elucidar melhor sua exposição. Tendo em vista a natureza da turma e da sua proposta pedagógica contextualizada, o professor, ao final de sua exposição didática, entregou uma atividade contendo as seguintes informações abaixo e um questionamento:
Qual a causa histórica dessa problemática?

Pegada Ecológica? O que é isso?

Você já parou para pensar que a forma como vivemos deixa marcas no meio ambiente? É isso mesmo, nossa caminhada pela Terra deixa “rastros”, “pegadas”, que podem ser maiores ou menores, dependendo de como caminhamos.



Os estudantes responderam:

- A) As alterações nos ecossistemas marcadas pelo efeito-estufa, já que esse, em seu estado natural, é responsável pelo aumento da temperatura na Terra e de impactos como: aumento no nível dos oceanos, o descongelamento das calotas polares e a desertificação.
- B) O processo de urbanização, já que é acompanhado pelo grande crescimento da população nas cidades, gerando transformações socioculturais que alteram o modo de vida das pessoas, levando-as ao consumo exacerbado, fato ausente nas áreas rurais.
- C) A poluição hídrica, saneamento básico incipiente, deposição inadequada de resíduos sólidos são os principais fatores causadores dessa problemática, haja vista que comprometem o uso e consumo dos recursos para as futuras gerações, portanto, sua sustentabilidade.
- D) O modelo de produção capitalista, já que esse, ao objetivar o lucro, gera condições equânime de acesso a bens e serviços e explora a natureza sem considerar os seus limites e a quantidade e qualidade desses recursos para as futuras gerações.
- E) O comprometimento da biocapacidade pelo modelo de produção econômica e consumo predominante, já que esse mecanismo natural representa a capacidade dos ecossistemas em produzir recursos úteis e absorver os resíduos gerados pelas atividades antrópicas.

GABARITO: E

- A) Está incorreta, uma vez que o aquecimento global é consequência do processo capitalista que opta por fontes de energias não-renováveis, altamente poluidoras.
- B) Está incorreta uma vez que a urbanização e o deslocamento de pessoas oriundas desse processo, resulta da industrialização de suas economias, sendo dessa forma, uma das consequências desse processo.
- C) Está incorreta, haja vista que, os fatores apresentados pela proposição, é resultado do processo desordenado de urbanização típico de países periféricos, portanto, são resultados de fatores históricos capitalistas.
- D) Está incorreta, pois, apesar de apresentar como causa o modelo de produção capitalista, o mesmo não promove situação equânime na sociedade, já que sobrevive da exploração e da pobreza, para obter o lucro.
- E) Está correta, já que a causa da pegada ecológica, tem no comprometimento da biocapacidade pelo modo de produção capitalista, que resulta na redução dos recursos naturais, pautado no lucro das grandes empresas, as quais comprometem esses recursos e sua sustentabilidade.

25. "Os hotspots, também chamados de hotspots de biodiversidade, podem ser definidos como áreas com grande biodiversidade, ricas principalmente em espécies endêmicas, e que apresentam alto grau de ameaça. Essas áreas são, portanto, locais que necessitam de atenção urgente, sendo consideradas prioritárias nos programas de conservação."

Sobre essas áreas no Brasil, é **CORRETO** afirmar:

- A) Os mangues são ecossistemas que se inserem nessas áreas específicas, haja vista que, por serem berçários marinhos, apresentam grande diversidade de espécies endêmicas tanto de fauna quanto de flora, sendo essa última um domínio morfoclimático formado por espécies halófilas e pneumatóforas.
- B) A caatinga é um exemplo de "Hotspot" no Brasil, em razão de sua biodiversidade e degradação, já que mais da metade de sua cobertura vegetal encontra-se desmatada pelas atividades antrópicas que, assim como a Mata Atlântica e o Cerrado, tem a sua gênese na agropecuária.
- C) A Mata de Araucárias no sul do país, de característica monótona e marcada pela presença predominante de espécies acicufoliadas, apresenta uma cobertura de apenas 20% de suas espécies, cuja alteração natural, teve por causa a arenização e, por essa razão, se insere como um dos Hotspots no país.
- D) Existem duas regiões reconhecidas como hotspots: o Cerrado e a Mata Atlântica, já que ambas, por apresentarem uma diversidade de espécies endêmicas e seus ecossistemas estarem comprometidos pela ação antrópicas, são áreas que requerem atenção do poder público quanto a sua preservação.
- E) A Mata Atlântica, o Cerrado e a Caatinga são os principais hotspots no Brasil, uma vez que, além de serem vegetações típicas de áreas ecótonas, apresentam $\frac{3}{4}$ de suas áreas desmatadas, cuja gênese dos impactos ambientais que se manifestam, encontram-se na expansão agropecuária.

GABARITO: D

- A) Está incorreta porque, apesar de ser um ecossistema importante e degradado, não apresenta os critérios que os classificam como de hotspot, ademais, a sua biodiversidade é mais significativa na fauna e não na flora, não sendo, dessa forma um domínio morfoclimático, mas, uma vegetação de transição pelas áreas fluviomarinhas na qual ocorrem.

- B) Está incorreta, haja vista que, o problema ambiental mais expressivo e que compromete a Caatinga é a desertificação, que resulta de efeitos relacionados aos fenômenos climáticos como de aquecimento global, que lhes ocasiona, com isso, a sua alteração e não desmatamento.
- C) Está incorreta, haja vista que não se insere como uma área de hotspot, em razão de suas características naturais, cuja degradação não decorre da arenização e nem é um processo natural.
- D) Está correta, haja que ambas vegetações citadas na proposição, além de apresentarem os critérios para essa classificação, foram eleitas pela ONU como importantes áreas no mundo, que requerem políticas de preservação, pela importância que assumem para o funcionamento dos ecossistemas.
- E) está incorreta porque, apesar da Mata Atlântica e o Cerrado terem sido desmatadas pela agropecuária, a Caatinga foi alterada pela desertificação oriunda do aquecimento global, ademais, nenhuma dessas vegetações são de áreas ecótonas, já que são domínios morfoclimáticos.

26. O ritmo de envelhecimento de uma população acompanha o processo de desenvolvimento de um país, ou seja, quanto mais desenvolvida for uma nação, maior a proporção de idosos em sua pirâmide demográfica em razão das condições socioeconômicas positivas.

<http://educacao.globo.com/geografia/assunto/dinamicapopulacional/populacao.html>

Aponte a proposição que define melhor o estágio dessa dinâmica.

- A) As economias pré-industriais, já que nessas sociedades a pirâmide etária tem um formato de ponta de flecha, isto é, o crescimento vegetativo é positivo em razão das transformações medicossanitárias existentes.
- B) Em países onde a pirâmide se inverte, cuja base indica crescimento vegetativo negativo, acompanhado pela redução da mortalidade infantil e melhores condições medicossanitárias que resultam numa proporção de idosos maior que a de jovens.
- C) Cada passagem de um estágio a outro modifica a distribuição da população por diferentes faixas etárias, como por exemplo, nos países emergentes, a pirâmide etária vive uma transição demográfica que decorre de altas taxas de natalidade e mortalidade, acompanhado pelo célere processo de envelhecimento da população.
- D) Em países onde a pirâmide tem um formato triangular, isto é, em países em crescimento econômico, pois, são nesses que nascem menos crianças e os idosos vivem mais, sendo ambos fatores resultados das melhorias medicossanitárias advindos do processo de urbanização.
- E) Nos países subdesenvolvidos, já que a pirâmide é invertida em razão das altas taxas de natalidade e mortalidade, acompanhadas pela baixa expectativa de vida oriundas de sociedades periféricas, cuja economia está pautada em atividades primárias, ligadas ao agronegócio.

GABARITO: B

- A) Está incorreta porque nas sociedades pré-industriais são essencialmente rurais, portanto, seu crescimento vegetativo e expectativa de vida são negativos, uma vez que, são altas as taxas de natalidade e mortalidade e o envelhecimento da população é nulo, em razão das condições medicossanitárias inexistentes.
- B) Está correto, haja vista que, apenas nos países desenvolvidos esse estágio encontram-se em melhores condições e vigentes.
- C) Está incorreta porque, a transição demográfica pela qual vivem os países emergentes, resulta da redução da natalidade que é acompanhado pela redução da mortalidade infantil e um aumento paulatino da expectativa de vida, oriundo das transformações socioculturais e medicossanitárias produzidas pela urbanização que, ainda, encontra-se em curso.
- D) está incorreto porque os países que apresentam pirâmide triangular, são subdesenvolvidos e não emergentes, os quais apresentam altas taxas de natalidade e mortalidade e baixa expectativa de vida em razão de suas condições socioeconômicas.
- E) Está incorreta porque nos países subdesenvolvidos a pirâmide não está invertida e, sim, de forma triangular, haja vista as altas taxas de natalidade e baixíssima expectativa de vida. Ademais, a sua economia é rural, cujas atividades primárias predominantes são de subsistência e extrativista.

27. O dinamismo da superfície da Terra é fruto da atuação antagônica de suas forças ou de duas fontes energéticas – as forças endógenas e as forças exógenas. Do jogo dessas duas forças opostas resulta toda dinâmica da litosfera. [...] Esse processo de criação de formas estruturais pelas forças endógenas e de esculpuração pelas forças exógenas é permanente ao longo do tempo e do espaço.

Fonte: ROSS, Jurandyr L. S. (Org.). Geografia do Brasil. São Paulo: Edusp, 1995, p. 17.

Sobre o Relevo brasileiro é **CORRETO** afirmar:

- A) Os Planaltos são as porções mais salientes do relevo que, quando comparados com as depressões, apresentam maior resistência ao processo erosivo e se diferenciam dessas pela altitude e feições.
- B) As Depressões são áreas de pediplanos, onde a sedimentação se sobrepõe à erosão. Estão situadas entre as bacias sedimentares e os escudos cristalinos.
- C) As Planícies são superfícies aplainadas, nas quais o processo de sedimentação supera os de erosão, é o caso das planícies e tabuleiros litorâneos que são as unidades geomorfológicas que predominam no território Brasileiro.
- D) 95% do relevo Brasileiro é constituído por Depressões e Planaltos e 5% por Planícies, fato que denota uma base geológica antiga, onde as forças endógenas sobrepõem as exógenas, isto é, os fatores construtivos sobrepõem os erosivos.
- E) As unidades geomorfológicas que compõem o relevo brasileiro, refletem uma estrutura geológica atual, já que a sua posição a oeste da placa sul-americana apontam a presença de alguns planaltos que resultaram de dobras e falhamentos de origem orogénica.

GABARITO: A

- A) Está correta, uma vez que, os planaltos e depressões resultam dos mesmos processos erosivos que as esculpem, porém, se diferenciam pela altitude e feições, já que os planaltos se definem como áreas elevadas e de superfícies irregulares e acidentadas, enquanto as depressões no Brasil são áreas suavemente inclinadas e rebaixadas quando comparado aos planaltos, de superfícies aplainadas e de pediplanos.
- B) Está incorreta porque as depressões não resultam da deposição e sedimentação, mas, da erosão.
- C) Está incorreta porque as planícies, apesar de serem áreas aplainadas e resultarem da sedimentação, não abrangem a maior parte do território brasileiro, mas, ocupam, apenas 5% de sua área.
- D) Está incorreta porque, em razão de suas características geomorfológicas e de estrutura antiga, os fatores exógenos sobrepõem os endógenos.
- E) Está incorreta porque o relevo brasileiro está sobre uma estrutura geológica antiga, situada na porção leste da Placa Sul-Americana, cujos planaltos resultaram de forças pretéritas relacionadas ao vulcanismo e tectonismo epirogenético, estando, hoje, sujeitas à erosão.

28. O complexo fenômeno da globalização teve início na Era das Grandes Navegações e prosperou a partir da Revolução Industrial em razão do seu desenvolvimento técnico e científico e, em detrimento, da consolidação do capitalismo que proporcionou a extensão de seu modo de produção, através do avanço dos meios de transportes e comunicação e da atuação das empresas transnacionais que geraram a necessidade de expansão do fluxo comercial mundial.



(<http://4.bp.blogspot.com>)

De acordo com o texto e a charge sobre a globalização, é **INCORRETO** afirmar que:

- A) Na fase neoliberalista, esse processo atinge as relações e condições de trabalho no mundo, decorrentes da mobilidade física das grandes empresas que ditam as regras do mercado e diminuem a atuação do Estado-Nação.

- B) O advento dos avanços técnico-científico e informacional oriundo da III Revolução Industrial, possibilitou uma maior fluidez de mercadorias, serviços, capitais e informações, já que diminuiu as barreiras na maioria dos países, para atuação das empresas multinacionais, exceto para as pessoas, em especial dos países periféricos.
- C) É um fenômeno que decorre do avanço do capitalismo e, por esse motivo, impede a construção de mercados dinâmicos nos países emergentes, uma vez que esses, por não possuírem fatores locais, não atraem as empresas e seus investimentos, apresentando uma economia comprometida e sem possibilidades de crescimento.
- D) É um processo que abrange um conjunto de transformações na ordem política e econômica que fortalece a conexão entre os lugares de diferentes escalas e dos países que, ao oferecerem fatores locais, são inseridos na lógica dessa teia global;
- E) Na globalização, a complexidade na oferta de bens e serviços, fez surgir uma divisão internacional do trabalho que estreitam as relações de trocas comerciais entre países ricos e pobres, a tempo que os distanciam em razão das acentuadas desigualdades sociais entre ambos.

GABARITO: C

- A) Está correta porque com o neoliberalismo houve o fortalecimento e crescimento das empresas privadas e o enfraquecimento do Estado-Nação, já que sua política privilegia a iniciativa privada, dando-lhe liberdade de atuação que é acompanhada pela precarização das condições de trabalho.
- B) Está correta porque só foi possível a atuação das empresas no mundo e da política neoliberalista, em razão do avanço técnico-científico e informacional, que permitiu uma maior fluidez de mercadorias, serviços, capitais e informações.
- C) Está incorreta porque a globalização foi responsável pela modernização das economias em países emergentes, gerando crescimento significativo dos mesmos.
- D) Está correta porque a globalização caracteriza-se pela expansão do sistema capitalista no mundo, a qual, em sua etapa neoliberalista, teve em alguns países periféricos os fatores para reduzir os custos da produção e expandirem os lucros.
- E) Está correta porque, por se tratar de um processo capitalista, essa lógica instala-se nos países e geram condições desiguais para sua manutenção, sobretudo nos países periféricos.

29. Por muito tempo, a concentração geográfica foi a principal característica da indústria no Brasil, a qual, a partir da década de 90 vive um processo contrário, pois, a lógica da produção mundial, em detrimento da Revolução Técnico-Científica e Informacional, inaugura uma política que privilegia o setor privado que fez com que muitos estados brasileiros passassem a oferecer vantagens locais, principalmente isenção de impostos para atrair esses atores empresariais.

Sobre essa política de disputa entre os estados para obter mais investimentos, é **CORRETO** afirmar:

- A) A designada "Guerra Fiscal" e a organização sindical contribuíram para a desconcentração industrial verificada a partir do último quartel do século XX, que culminou no crescimento das médias cidades e da desmetropolização.
- B) O desenvolvimento regional desigual brasileiro provocado pela disparidade da espacialização industrial fora superado em razão da política fiscal dos Estados;
- C) O fim das políticas neoliberais no país possibilitou o retorno do modelo de substituição de importações, fato que contribuiu para o crescimento econômico do Brasil;
- D) As multinacionais instaladas no país permanecem em busca de mercado consumidor e matérias primas;
- E) As empresas estrangeiras continuam, apenas, nas áreas litorâneas, já que essas são próximas aos portos e concentram as grandes cidades que, em razão de sua dinâmica urbana de expansão, apresentam uma capacidade produtiva que facilita o beneficiamento e o escoamento de commodities.

GABARITO: A

- A) Está correta porque só foi possível a desconcentração espacial da indústria no Brasil, em razão dos avanços dos meios de transportes e comunicação, oriunda da década de 90, bem como os incentivos fiscais concedidos pelo Estado às empresas, como tentativa de atraí-las e gerar emprego e renda.
- B) Está incorreto porque as desigualdades socioeconômicas entre as regiões brasileiras, apesar da desconcentração industrial, não foram superadas.
- C) Está incorreto porque não houve o fim da política neoliberalista, pois, o modelo de produção industrial vigente é toyotista, o qual substituirá o modelo fordista predominante na época da substituição de importações.
- D) Está incorreto porque as empresas multinacionais, em razão do avanço tecnológico vigente, não buscam

mercado consumidor e nem matéria-prima, mas, incentivos fiscais concedidos pelos Estados para sua produção, já que não dependem mais de mão-de-obra barata.

E) Está incorreto porque com a desconcentração espacial das indústrias brasileiras, as antigas áreas litorâneas e portuárias vão sendo esvaziadas em razão desse processo e da desindustrialização.

30. Ao abordar em sala de aula sobre o objeto de estudo da geografia, uma professora do Ensino Fundamental das séries finais disse que: “O Espaço Geográfico é resultante do acúmulo desigual de tempos, portanto, ele é complexo, fragmentado, articulado, reflexo e condicionante da sociedade”, nesse sentido, na ocasião, ela chamou a atenção dos estudantes para uma leitura e interpretação mais acurada, através das categorias de análise que compõe a sua complexidade organizacional, a saber: **ESPAÇO; PAISAGEM; REGIÃO; LUGAR E TERRITÓRIO.**

Ao destacá-las, ela perguntou aos estudantes o que seria **CORRETO** afirmar sobre elas, exceto:

- A) A definição de espaço geográfico perpassa, para Milton Santos, numa relação indissociável entre ações e objetos. Portanto, o espaço geográfico é formado pelo conjunto de ações e objetos dispostos pela ação humana no meio.
- B) A paisagem é condição, meio e produto das relações sociais sobre a natureza, provenientes da divisão social do trabalho que, por sua vez, representa os níveis das sociedades humanas, ao longo do tempo, portanto é um conjunto de formas.
- C) A Região pode ser definida como um recorte do espaço que deriva da diferenciação de áreas, isto é, da sua heterogeneidade. Na atualidade, o conceito comporta uma parcela do espaço, se constituindo como produto e produtora das dinâmicas da globalização, fragmentação e diferenciação do espaço.
- D) Lugar constitui a dimensão de existência que se manifesta na porção do espaço geográfico apropriado para a vida, no qual se valorizam as relações de afetividade desenvolvidas pelos indivíduos em relação ao seu ambiente.
- E) Território pode ser entendido como uma dimensão política do espaço, estabelecido com base nas relações de poder, podendo ser uma área demarcada ou descontínua. Ele é produzido e apropriado pelo ser humano, representando a expressão dos grupos sociais dominantes.

GABARITO: B

- A) Está correta porque a definição elucidada sobre o espaço geográfico de acordo com Milton Santos está alinhada aos estudos a esse respeito.
- B) Está incorreto porque a definição em questão não é pertinente a paisagem e, sim, ao espaço geográfico, já que a mesma se define pelo o que é visível e acompanha a dinâmica do espaço.
- C) Está correta porque a definição em questão corresponde aos aspectos que caracterizam a Região.
- D) Está correta porque a definição em questão corresponde aos aspectos que caracterizam o Lugar.
- E) Está correta porque a definição em questão corresponde aos aspectos que caracterizam o Território.